



وزارة التربية

الإدارة العامة لمنطقة مبارك الكبير التعليمية

اختبار نهاية الفصل الدراسي الاول
٢٠١٩ / ٢٠١٨

«السابع»	الصف
«الاجتماعيات»	المادة

نموذج إجابة



السؤال الأول (موضوعي) : يتكون من (أ - ب - ج - د - هـ - و) (لكل نقطة درجة)

(أ) اختر الإجابة الصحيحة للعبارة التالية من بين الخيارات التي تلي كلاً منها وضع خطأ تحته :-

1- يقع جبل مرة في دولة عربية تسمى : ص 39

أ- الأردن ب- المغرب ج- العراق د- السودان

2- عرف سكان بلاد اليمن قديماً الأبجدية وكانت تكتب بخط : ص 87

أ- الهيروغليفي ب- المسماري ج- الصيني د- المسند

3- حشائش الاستبس في بلاد المغرب العربي تسمى : ص 52

أ- العرفج ب- الصنوبر ج- الحلفا د- الصبار

4- تمثل مساحة الوطن العربي من جملة مساحة العالم حوالي : ص 23

أ- 10% ب- 15% ج- 20% د- 25%

5- أكبر الدول العربية في قارة آسيا تسمى : ص 23

أ- اليمن ب- السعودية ج- سوريا د- الكويت

6- من محطات تحلية مياه البحر في دولة الكويت محطة : ص 61

أ- رأس عبود ب- أبو فنطاس ج- الشويخ د- الإحساء

(ب) صنف الأسماء التالية حسب الجدول: ص 90

(القرآن الكريم - سيدنا موسى عليه السلام - التوراة - سيدنا محمد ﷺ - الأنجيل - سيدنا عيسى عليه السلام)

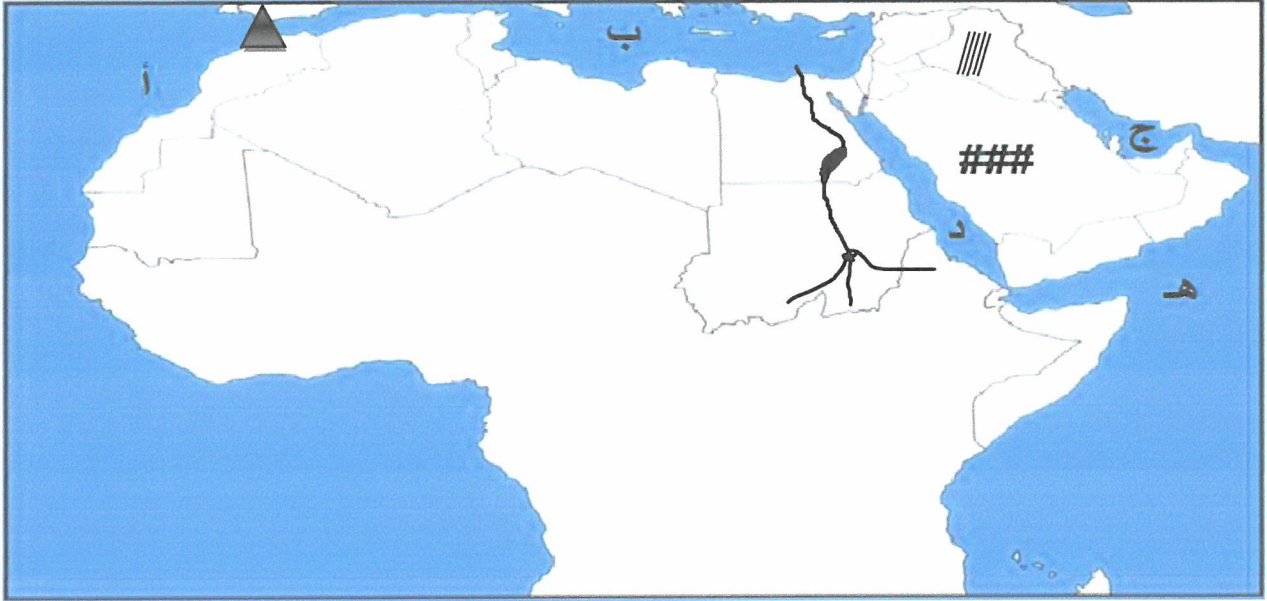
الديانة	النبي	الكتاب
الإسلام	سيدنا محمد ﷺ	القرآن الكريم
المسيحية	سيدنا عيسى عليه السلام	لأنجيل
اليهودية	سيدنا موسى عليه السلام	التوراة

(ج) أكمل العبارات التالية بما يناسبها مما درست :-

- 1- موقع الدولة بالنسبة لليابس والماء يسمىالموقع النسبي... ص37
- 2- أرض مرتفعة سطحها مستوي وتمتد على مساحة كبيرة تسمى ...الهضبة... ص40
- 3- من أشهر السدود الزراعية التي قام بها سكان بلاد اليمن يسمى ...مأرب... ص86
- 4- يمتد وطننا العربي الكبير في قارتي آسيا وأفريقيا... ص21
- 5- يطلق على البحرين قديما قبل الفتح الإسلامي اسمأوال... ص88
- 6- تعتبر حدائق بابل المعلقة مظهر من مظاهر حضارة تسمىبلاد الرافدين..... ص82

6

(د) لاحظ خريطة الوطن العربي الصماء ، ثم أجب عن الأسئلة التي تليها :-



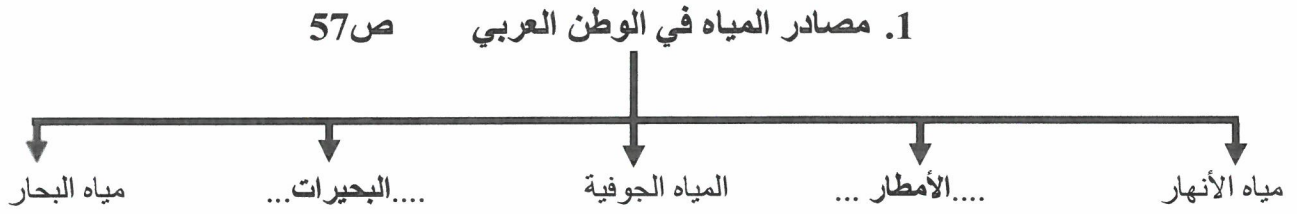
- (1) الحرف (ب) يمثل مسطح مائي يسمى ...البحر المتوسط... ص28
- (2) الرمز (###) يمثل هضبة تسمى ...نجد... ص40
- (3) الخليج العربي يحمل على الخريطة حرف ... ج ... ص28
- (4) حدد على الخريطة مضيق جبل طارق بشكل . ▲ ص29
- (5) ظلل فوق موقع حضارة بلاد الرافدين . ▨ ص82
- (6) ارسم نهر النيل على الخريطة . ✎ ص58

6


(2)



(هـ) أكمل المخطط السهمي التالي :



2. عناصر المناخ ص45



3. عوامل قيام الحضارة (يكتفى بنقطتين)



6

(و) صحح ما تحته خط في العبارات التالية وذلك بكتابة التصويب في المكان المناسب :-

م	العبرة	التصويب
1	المضيق الذي يصل بين الخليج العربي و خليج عمان يسمى <u>باب المندب</u>	هرمز ص29
2	ملكة سبأ التي حكمت بلاد اليمن تسمى <u>كيلوبترا</u> .	بقيس ص86
3	المسطح المائي الذي تحيط به اليابسة من جميع الاتجاهات يسمى <u>الخليج</u>	البحيرات ص 60
4	يعتبر معبد باربارا من مظاهر حضارة <u>اليمن</u> .	حضارة دلمون (البحرين) ص73
5	اختراع السومريون نوعا من الكتابة عرفت باسم الكتابة <u>الهيروغليفية</u>	المسمارية ص83
6	حالة الجو خلال فترة زمنية طويلة يسمى <u>الطقس</u>	المناخ ص44

6

36

(3)



السؤال الثاني (المقالي) : يتكون من (أ - ب - ج) .

(أ) : عرف المفاهيم التالية :- (لكل مفهوم درجة)

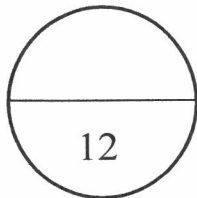
- 1- النبات الطبيعي : هو النبات الذي ينمو تلقائيا عقب سقوط الأمطار دون تدخل من الإنسان ص 51
- 2- حضارة: كل ما يطرأ على المجتمع من تقدم و تطور و رقي في كل نواحي الحياة الدينية و السياسية ص 71
- 3- المضيق : ممر مائي ضيق يصل بين البحرين أو محيطين أو أي مساحتين كبيرتين من الماء ص 28
- 4- السهول : مساحة كبيرة من سطح الأرض تتميز باستوائها و قلة ارتفاعها ص 42

(ب) : علل لما يلي (اذكر السبب) :-

- 1- يتمتع الوطن العربي بأهمية اقتصادية منذ القدم . (درجة)
- - منطقة عبور لحركة الملاحة والتجارة العالمية - جسر يربط بين قارات العالم الثالث القديم ص 35
- سكان الوطن العربي يشكلون 5% من سكان العالم
- 2- ازدهار الزراعة في بلاد الرافدين . (يكفى بنقطه) (درجة)
- خصوبة التربة - سعة السهول - وفرة المياه - إقامة السدود ص 81
- 3- حرص المصريون القدماء على تحنيط جثث موتاهم . (درجة)
- اعتقدوا أن الحياة تعود بعد الموت (البعث والخلود) ص 76
- 4- كانت أوروبا قديما تعيش في عصور الظلام . (درجة)
- سبب سيطرة الكنيسة على عقول الناس . ص 92

(ج) : أجب عما يلي :-

- 1- عدد - العوامل المؤثرة في تنوع النبات الطبيعي في الوطن العربي . (درجتان)
- نوع التربة • المناخ ص 51
- 2- اذكر - مراكز الإشعاع التي بفضلها انتقلت الحضارة العربية الإسلامية الى قارة أوروبا. (درجتان)
- بلاد الأندلس • صقلية • الاحتلال الصليبي لبلاد الشام ص 92



السؤال الثالث (المقالي) : يتكون من (أ - ب - ج) .



(أ) لاحظ الصورة التي أمامك ثم أجب عن الأسئلة التالية :

1- ما اسم الحضارة التي تمثلها هذه الصورة ؟ (درجة)

• الحضارة المصرية القديمة ص74

2- اذكر اثنين من عوامل قيام هذه الحضارة . (درجتان)

• تنوع الصخور والمعادن - امتداد الصحراء ص74

• نهر النيل - اعتدال المناخ وجفافه

(ب) اكتب نقطتين فيما يلي :

1- الفنون التي اشتهر فيها سكان بلاد الرافدين . (درجتان)

• النحت

• البناء

• الرسم

• الاولان الفخارية

2- صفات الأمطار في الوطن العربي . (درجتان)

• تذبذب كمية الامطار بين عام و اخر

• تسقط في ايام معدودة

• الامطار تقتصر على الاطراف الشمالية و الجنوبية

3- العوامل التي تثر في مناخ الوطن العربي . (درجتان)

• الموقع بالنسبة لدوائر العرض

• القرب أو البعد من المسطحات المائية .

• التضاريس

• الرياح .

(ج) قارن بين كل مما يلي حسب الجدول التالي

وجه المقارنة	الغابات المدارية ص52	الغابات المعتدلة ص52
مميزات اشجارها	• <u>تمتاز بضخامة اشجارها و جذوعها - تشابك اغصانها - اوراقها العريضة - ارتفاعها الكبير</u> (درجة)	• <u>تتسم هذه الغابات بعدم كثافتها - بعضها يكون دائم الخضرة و بعضها تتساقط أوراقه في فصل الشتاء.</u> (درجة)
أهم الأشجار	• <u>الساج - التاك - الماهوجني - الاينوس - السدر - الاثل - والسنت</u> (نصف درجة)	• <u>البلوط - السنديان - الأرز - العرعر - الصنوبر - الزيتون - النفاح - الحمضيات والفواكه (نصف درجة)</u>

انتهت الأسئلة
تمنياتنا بالتوفيق والنجاح

(5)

